



ACTIVIDADES SEMANA 12: DEL 8 AL 12 DE JUNIO DE 2020

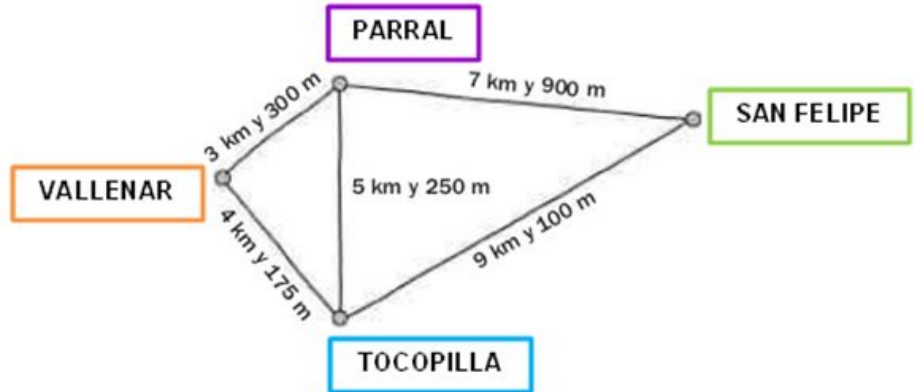
ALL TOGETHER WE CAN MAKE IT.

LIBRO DIGITAL: <http://edubook.vicensvives.com/es/inicio>

USUARIO PARA ALUMNADO: SASE34

| FECHA. | ACTIVIDADES DEL DÍA | | | | | | | | | | |
|---|---|--------|----------------------|----------|--------|------------|--------|--------|--------|-----------|--------|
| <p>LUNES 8</p>  <p>Estos son nuestros océanos.</p> | <p>LENGUA:</p> <p>- Hoy 8 de junio es el “Día Mundial de los Océanos”. Este día se celebra para proteger la diversidad de la vida marina y combatir la contaminación de mares y océanos. Lee con atención esta lectura y después contesta a las preguntas.</p> <p><u>LECTURA: LOS PLÁSTICOS EN OCÉANOS Y MARES</u></p> <ol style="list-style-type: none">1. <i>Escribe tres motivos por los que los océanos y los mares son fundamentales en nuestras vidas.</i>2. <i>¿Cuál es la principal amenaza para nuestros océanos y mares? ¿Por qué?</i>3. <i>¿Qué les está ocurriendo a las tortugas y a las aves marinas?</i>4. <i>¿Qué podemos hacer para proteger a nuestros océanos y mares?</i> <p>- Video: La Naturaleza nos habla. SOY AGUA (Por Penélope Cruz) La naturaleza no nos necesita. Nosotros sí necesitamos a la naturaleza.</p> <p>- OPCIONAL: Dibuja este logo. La mano puedes hacerla con pintura o dibujando tu silueta. Puedes decorarlo con más dibujos, por ejemplo, de animales marinos.</p>  <p>MATES:</p> <ol style="list-style-type: none">1. Observa los carteles. Ordena los pueblos de mayor a menor número de habitantes.  <table border="1"><thead><tr><th>Pueblo</th><th>Número de habitantes</th></tr></thead><tbody><tr><td>Vallenar</td><td>54.174</td></tr><tr><td>San Felipe</td><td>70.873</td></tr><tr><td>Parral</td><td>41.302</td></tr><tr><td>Tocopilla</td><td>33.248</td></tr></tbody></table> | Pueblo | Número de habitantes | Vallenar | 54.174 | San Felipe | 70.873 | Parral | 41.302 | Tocopilla | 33.248 |
| Pueblo | Número de habitantes | | | | | | | | | | |
| Vallenar | 54.174 | | | | | | | | | | |
| San Felipe | 70.873 | | | | | | | | | | |
| Parral | 41.302 | | | | | | | | | | |
| Tocopilla | 33.248 | | | | | | | | | | |

2. Observa el mapa y completa las distancias. **Expresa el resultado en metros.** Recuerda que 1 km son 1000 m (multiplico por 1000)



Ejemplo: De Valленар a Parral hay 3 km y 300 m.

$$3 \times 1000 = 3000 \text{ m} \quad 3000 \text{ m} + 300 \text{ m} = 3.300 \text{ m}$$

- De Parral a San Felipe hay _____
- De Tocopilla a San Felipe hay _____
- De Valленар a Tocopilla hay _____
- De Parral a Tocopilla hay _____

MARTES 9



Si amamos nuestro planeta debemos mantenerlo sano.

LENGUA:

1. Escribe en tu cuaderno **cuatro cosas que...**

son dulces como...



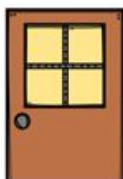
son frágiles como...



se comen con cuchara como...



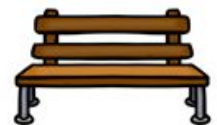
son de madera como...



hay en el cuarto de baño como...



sirven para sentarse como...



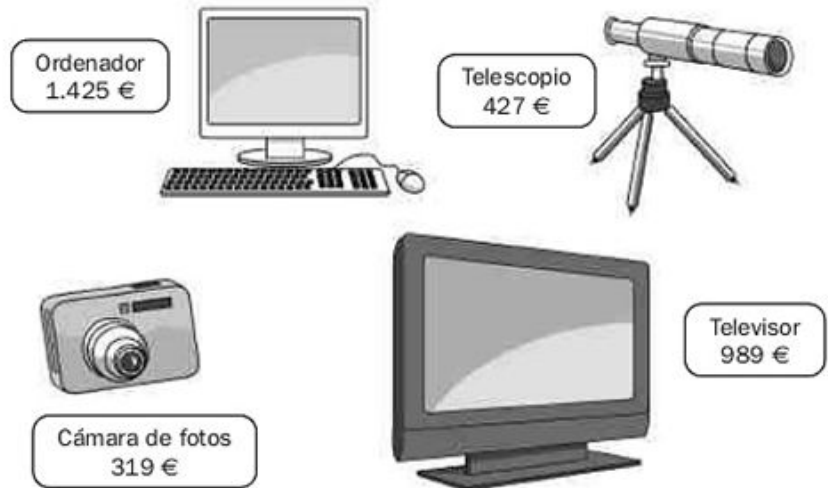
OPCIONAL: Encuentra en la sopa de letras 10 deportes y juegos. Las palabras pueden estar en vertical, horizontal y diagonal.

[SOPA DE LETRAS: DEPORTES Y JUEGOS](#)

(puedes hacer la actividad online o descargar en PDF)

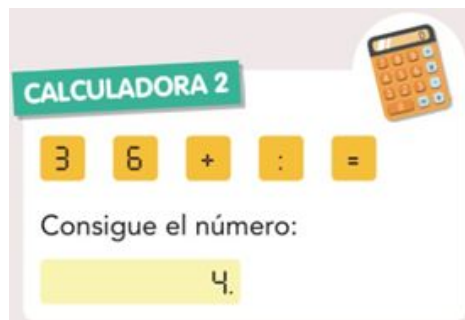
MATES:

- Observa el precio de cada artículo y responde a las preguntas:



1. Carlos ha comprado un televisor y tres cámaras de fotos. ¿Cuánto dinero ha pagado en total?
2. Olga tiene ahorrados 1.750 euros. ¿Cuánto dinero le falta para poder comprar un ordenador y un telescopio?
3. ¿Qué dos artículos podría comprar Olga con los 1.750 euros?

- OPCIONAL: Calculadora estropeada. ¿Qué teclas y en qué orden has de pulsar para obtener el **número 4** si solo funcionan las teclas indicadas (**3, 6, +, :, =**) ?



MIÉRCOLES 10

LENGUA: Los refranes. ¿Qué son? Los refranes son dichos populares que forman parte de la cultura de un país. En España tenemos algunos. Escribe el significado de estos sobre aves que te pongo abajo. Pide ayuda a los mayores si ves que no eres capaz de adivinar.

- Cría cuervos y te sacarán los ojos.
- Pájaro que veo, pluma que le arranco.
- Más vale pájaro en mano, que ciento volando.

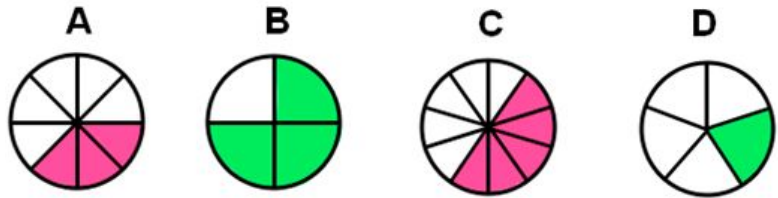
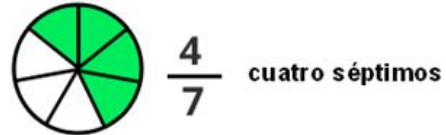
Para saber más: [GUÍA INFANTIL DE REFRANES CON IMÁGENES.](#)



Debemos conocer nuestros fondos marinos.

MATES:

1. Escribe la fracción que representa la parte coloreada. Después, escribe cómo se lee esa fracción. No tienes que hacer los dibujos. Escribe la letra. **Ejemplo:**



2. Escribe las cifras que faltan (fijate bien si es suma o resta)

$$\frac{3}{8} + \frac{\square}{8} = \frac{7}{8}$$

$$\frac{1}{6} + \frac{\square}{6} = \frac{5}{6}$$

$$\frac{2}{7} + \frac{\square}{7} = \frac{5}{7}$$

$$\frac{7}{9} - \frac{\square}{9} = \frac{2}{9}$$

$$\frac{5}{8} - \frac{\square}{8} = \frac{3}{8}$$

$$\frac{2}{4} - \frac{\square}{4} = \frac{1}{4}$$

OPCIONAL: Averigua el valor de cada figura y resuelve la suma.

| |
|--------------------------------------|
| $\odot + \odot = 16$ |
| $\star + \star + \star = 6$ |
| $\boxplus + \boxplus + \odot = 10$ |
| $\star + \boxplus + \odot = \square$ |

| |
|--|
| $\ast + \ast = 14$ |
| $\text{♪} + \text{♪} + \text{♪} = 3$ |
| $\ast + \text{☁} + \text{☁} = 11$ |
| $\text{☁} + \text{♪} + \ast = \square$ |

JUEVES 11



