



# ANEXO

# FICHAS



Semana del 27 al 30 de abril

En este Anexo se recogen todas las fichas y actividades que se indican en el documento PROGRAMACIÓN DE ACTIVIDADES SEMANA DEL 27 AL 30 DE ABRIL


Lunes 27-Ficha 1




.....





.....




.....



.....



.....




.....

Lunes 27-Ficha 2

Nadia tiene una

diadema

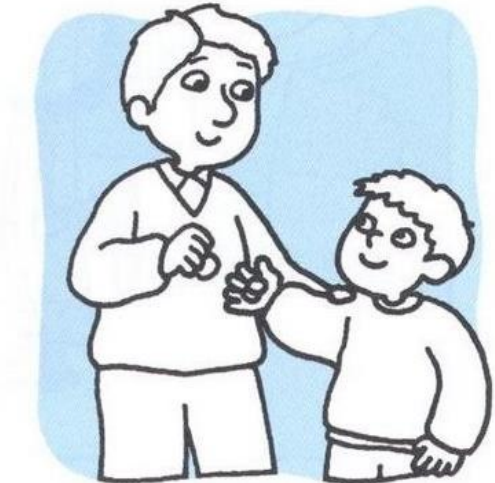
mesa



Papá me da dos



monedas

monos





# TIRA Y LEE



pi	do	su	ma	le	jo	ni
lo	ju	te	da	mo	ño	na
di	me	su	lu	pe	do	tu
nu	de	la	po	su	ja	ji
du	pa	si	ne	ñu	mo	to
ño	ta	li	pu	sa	no	me



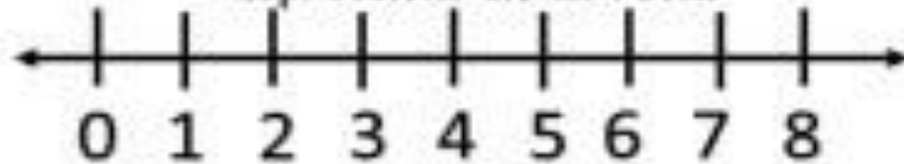
### Un paseo por el parque

Hoy paseando por el parque me he cruzado con 3 perros salchicha 2 chiguaguas y 3 dálmatas .  
¿Cuántos perritos hay en el parque?



Plantea el problema  
dibujándolo

Representa en la recta



Mi ecuación

<input type="text"/>	<input type="text"/>	<input type="text"/>	=	<input type="text"/>
----------------------	----------------------	----------------------	---	----------------------

Mi resultado:







Un paseo por el zoo




He visto 3 jirafas comiendo hojas y 2 monos jugando en los arboles, y en el estanque hay 2 cocodrilos.

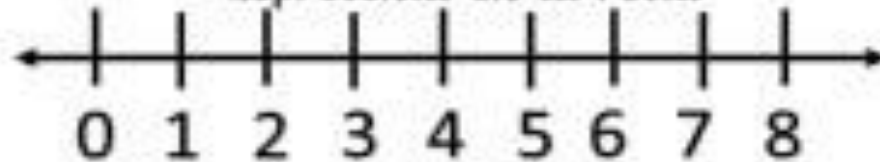
¿Cuántos animales hay en el zoo?



Plantea el problema dibujándolo



Representa en la recta



Mi ecuación

=

Mi resultado:

