

# Tabla del 6

Nombre: \_\_\_\_\_

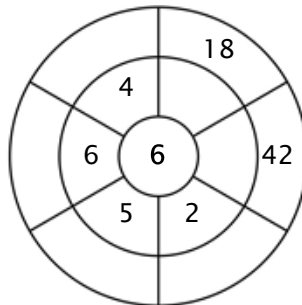
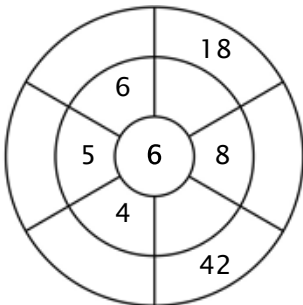
## Ejercicio 1:

Colorea todas las casillas que sean las soluciones para esta tabla de multiplicar.

18	5	36	42	60
37	23	6	49	44
30	54	42	22	30
5	54	24	12	55
19	60	18	1	21

## Ejercicio 2:

Completa el círculo multiplicando el número en el centro por el anillo intermedio para conseguir los números externos.



## Ejercicio 3:

Rellena con el producto correcto.

a)  $6 \times 7 = \underline{\quad}$

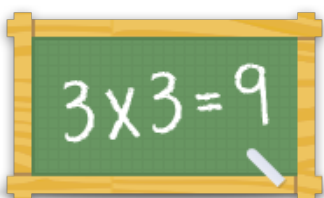
b)  $6 \times 6 = \underline{\quad}$

c)  $6 \times 10 = \underline{\quad}$

d)  $6 \times 2 = \underline{\quad}$

e)  $6 \times 8 = \underline{\quad}$

f)  $6 \times 5 = \underline{\quad}$



Para más hojas de trabajo, juegos y ejercicios:

[www.tablasdemultiplicar.com](http://www.tablasdemultiplicar.com)