

Lunes 25- viernes 29 mayo 2020

Buenos días chicos y chicas

*Esta semana ya terminamos con el
Tema 9 y a continuación os proponemos
las actividades finales.*

*Os animamos a seguir trabajando con la
misma dedicación y responsabilidad.*

El profe Manolo y la seño Sonia



Página 162-163

Actividades

*Practica: 1,2,3,4,5,6,8

*Aplica: 9,10

*Profundiza: 14,16

Página 165

Ya sé....



Actividades:

1,2,3,4,5,6,9



Por último os proponemos una serie de actividades un poco más lúdicas


* <http://www.tiching.com/776200>

* Descifra el código. Deducirán el valor numérico de las siguientes figuras:

$$\begin{array}{l} \blacktriangle + \blacksquare = \bullet + \bullet \\ \blacklozenge + \bullet = 12,5 \\ \bullet : \blacklozenge = 2 \end{array} \quad \begin{array}{l} \blacksquare - 5,5 = \blacktriangle \\ 54 : \blacksquare = 9 \\ 10 : \blacktriangle = \bullet \end{array}$$

* En busca del cubo


“Uno de los cubos armados corresponde al cubo abierto, ¿cuál es?”



* Suma frutas

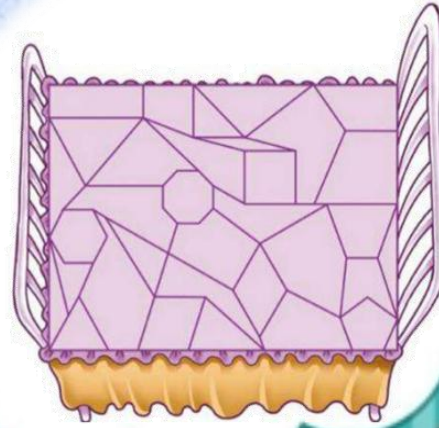
SUMAFRUTAS
CAMBIA LAS FRUTAS POR LOS NÚMEROS A LOS QUE SUSTITUYEN Y DEDUCE EL VALOR DE LA SUMA QUE FALTA.


🍏	+	🍏	+	🍏	+	🍏	=	20
+	+	+	+					
🍏	+	🍏	+	🍌	+	🍌	=	18
+	+	+	+					
🍌	+	🍊	+	🍏	+	🍏	=	14
+	+	+	+					
🍏	+	🍏	+	🍊	+	🍌	=	12
+	+	+	+					
☐	=	15		14		18		



Averigua la figura que falta

Encuentra en este dibujo al menos trece polígonos, estos son algunos ejemplos





*Hemos terminado la
unidad y esperamos que
os haya gustado.*

Besitos

Profe Manolo y Seño Sonia